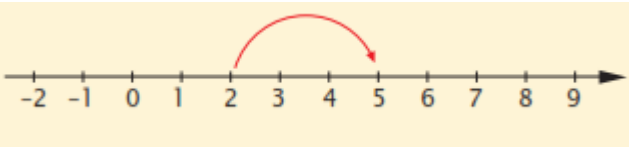
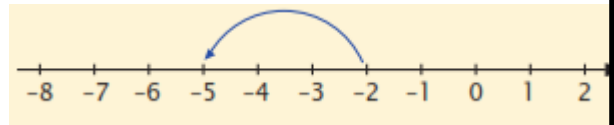


1. НЕГАТИВНИ ЦЕЛИ БРОЕВИ

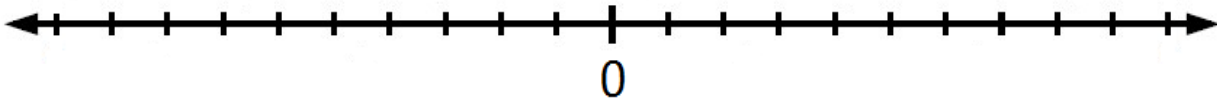
Кога собираме поместуваме на десно



Кога одземаме поместуваме на лево



1. Подреди ги броевите 1, -4, 6, -8, 4, 5, -6, -7, -1, 2, -3, 7, 3, -10 на бројната права:



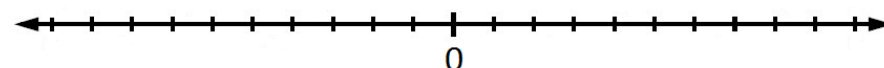
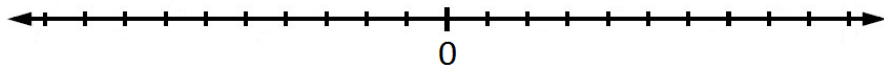
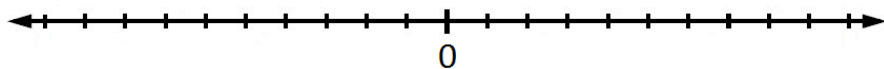
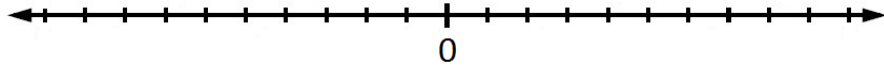
2. Пресметај користејќи бројна права:

а) $4 + (-6) =$ _

б) $5 + (-3) =$ _

в) $3 - (-6) =$ _

г) $4 - (-5) =$ _



3. Пресметај

а) $(+5) + (-3) =$

б) $(-7) + (+9) =$

в) $(-10) + (-17) =$

г) $(+13) + (+12) =$

д) $(8) - (-6) =$

ѓ) $+6 + 3 =$

е) $-10 - 4 =$

ж) $-6 - 8 =$

Училиште:ООУ „Никола Вапцаров“,Струмица
Наставник:Марија Панова